

ΧΗΜΕΙΑ

ΘΕΤΙΚΗΣ ΚΑΤΕΥΘΥΝΣΗΣ Γ' ΛΥΚΕΙΟΥ

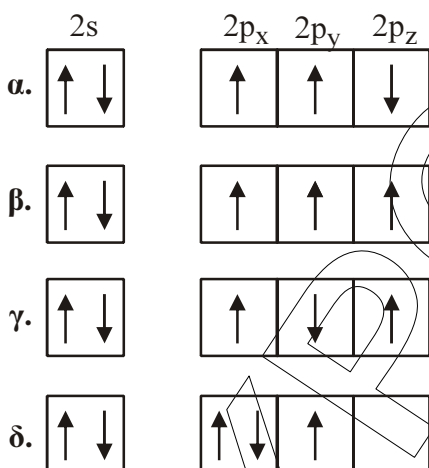
28 ΜΑΪΟΥ 2010

ΕΚΦΩΝΗΣΕΙΣ

ΘΕΜΑ Α

Για τις ερωτήσεις Α1 έως και Α4 να γράψετε στο τετράδιό σας τον αριθμό της ερώτησης και δίπλα το γράμμα που αντιστοιχεί στη σωστή απάντηση.

Α1. Η ηλεκτρονιακή δομή, στη θεμελιώδη κατάσταση, της εξωτερικής στιβάδας του ${}^7\text{N}$ είναι:



Μονάδες 5

Α2. Ο σχηματισμός του διπλού δεσμού μεταξύ δύο ατόμων άνθρακα δημιουργείται με επικάλυψη:

- α. $sp^2 - sp^2$ και p - p τροχιακών.
- β. $sp^2 - sp^3$ και p - p τροχιακών.
- γ. $sp - sp$ και p - p τροχιακών.
- δ. $sp^3 - sp^3$ και p - p τροχιακών.

Μονάδες 5

Α3. Το συζυγές οξύ του NH_3 είναι:

- α. NH_3
- β. NH_4^+
- γ. NH_2OH
- δ. NH_2^-

Μονάδες 5

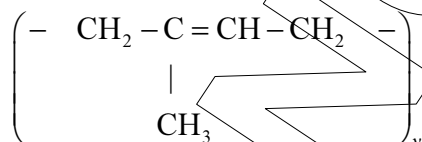
Α4. Ποια από τις επόμενες ουσίες, όταν διαλυθεί στο νερό, δεν αλλάζει το pH του;

- α. CH_3COOK
- β. NaF
- γ. NH_4Cl
- δ. $\text{Ca}(\text{NO}_3)_2$

Μονάδες 5

A5. Να χαρακτηρίσετε τις προτάσεις που ακολουθούν, γράφοντας στο τετράδιό σας δίπλα στο γράμμα που αντιστοιχεί σε κάθε πρόταση, τη λέξη **Σωστό**, αν η πρόταση είναι σωστή, ή **Λάθος**, αν η πρόταση είναι λανθασμένη.

- α.** Τα s τροχιακά έχουν σφαιρική συμμετρία.
- β.** Το $(\text{COONa})_2$ οξειδώνεται από το KMnO_4 με την παρουσία H_2SO_4 .
- γ.** Για την ογκομέτρηση ισχυρού οξέος με ισχυρή βάση, κατάλληλος δείκτης είναι αυτός με $\text{pK}_a = 2$.
- δ.** Το pH υδατικού διαλύματος H_2SO_4 0,1 M είναι 1.
- ε.** Με πολυμερισμό της ένωσης 1,3-βουταδιένιο προκύπτει το πολυμερές:



Μονάδες 5

ΘΕΜΑ Β

B1. Δίνονται τα στοιχεία ${}_{20}\text{Ca}$, ${}_{26}\text{Fe}$, ${}_{16}\text{S}$.

- α.** Να γράψετε τις ηλεκτρονιακές δομές τους (κατανομή ηλεκτρονίων σε υποστιβάδες). (μονάδες 3)
- β.** Να βρεθεί η περίοδος και η ομάδα του περιοδικού πίνακα στην οποία ανήκει το καθένα από τα στοιχεία αυτά. (μονάδες 6)

Μονάδες 9

B2. Να αιτιολογήσετε τις επόμενες προτάσεις:

- α.** Η 2η ενέργεια ιοντισμού ενός ατόμου είναι πάντα μεγαλύτερη από την 1η ενέργεια ιοντισμού του.
- β.** Το pH του καθαρού νερού στους 80°C είναι μικρότερο του 7.
- γ.** Σε κάθε τροχιακό δεν μπορούμε να έχουμε περισσότερα από 2 ηλεκτρόνια.
- δ.** Σε μια περίοδο του περιοδικού πίνακα, η ατομική ακτίνα ελαττώνεται από αριστερά προς τα δεξιά.
- ε.** Τα αντιδραστήρια Grignard παρασκευάζονται σε απόλυτο αιθέρα.

Μονάδες 10

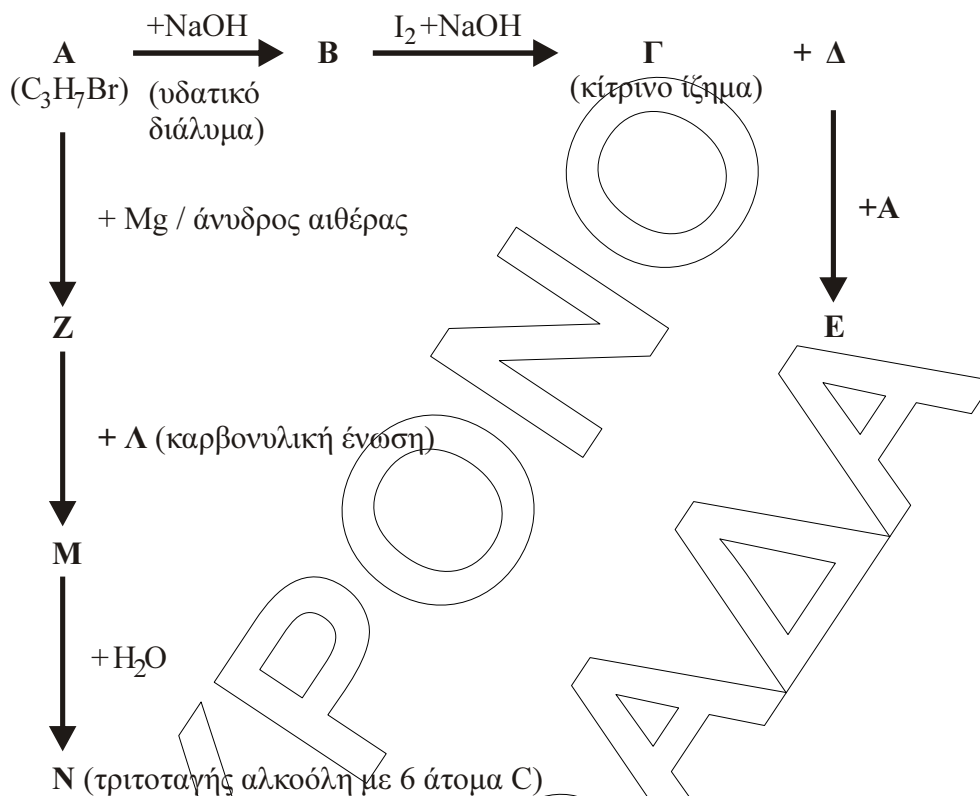
B3. Κάθε μία από τις ενώσεις: πεντάνιο, 1-πεντένιο και 1-πεντίνιο, περιέχεται αντίστοιχα σε τρεις διαφορετικές φιάλες.

Πώς θα ταυτοποιήσετε το περιεχόμενο κάθε φιάλης; Να γραφούν οι αντίστοιχες χημικές εξισώσεις.

Μονάδες 6

ΘΕΜΑ Γ

Γ1. Δίνονται οι παρακάτω χημικές μετατροπές:



Να γράψετε τους συντακτικούς τύπους των οργανικών ενώσεων Α, Β, Γ, Δ, Ε, Ζ, Λ, Μ, Ν.

Μονάδες 18

Γ2. Ισομοριακό μείγμα τριών καρβονυλικών ενώσεων του τύπου $\text{C}_4\text{H}_8\text{O}$, με επίδραση αντιδραστήριου Fehling, δίνει 2,86 g ιζήματος (Cu_2O). Να βρεθούν τα mol των συστατικών του μείγματος.

Δίνονται οι σχετικές ατομικές μάζες του $\text{Cu} = 63,5$ και του $\text{O} = 16$.

Μονάδες 7

ΘΕΜΑ Δ

Διαθέτουμε υδατικά διαλύματα CH_3COOH 0,1M (διάλυμα Y_1) και CH_3COOH 0,2M (διάλυμα Y_2).

Δ1. Να βρεθεί πόσα mL H_2O πρέπει να προστεθούν σε 100 mL διαλύματος Y_1 , ώστε να τριπλασιαστεί ο βαθμός ιοντισμού του CH_3COOH ;

Μονάδες 6

Δ2. Σε 100 mL διαλύματος Y_2 προσθέτουμε 100 mL διαλύματος NaOH 0,1 M, οπότε προκύπτει διάλυμα Y_3 . Να βρεθεί το pH του διαλύματος Y_3 .

Μονάδες 6

Δ3. Σε 100 mL διαλύματος Y_2 προσθέτουμε 100 mL διαλύματος NaOH 0,2 M, οπότε προκύπτει διάλυμα Y_4 . Να βρεθεί το pH του διαλύματος Y_4 .

Μονάδες 6

Δ4. Να βρεθεί πόσα mL διαλύματος NaOH 0,1 M πρέπει να προστεθούν σε 101 mL του διαλύματος Y_2 , ώστε να προκύψει διάλυμα Y_5 με $pH = 7$;

Μονάδες 7

Δίνεται ότι:

- Όλα τα διαλύματα βρίσκονται σε θερμοκρασία $\theta = 25^\circ C$, $K_a(CH_3COOH) = 10^{-5}$, $K_w = 10^{-14}$.
- Κατά την ανάμειξη των διαλυμάτων δεν προκύπτει μεταβολή των όγκων των διαλυμάτων.
- Τα δεδομένα του προβλήματος επιτρέπουν τις γνωστές προσεγγίσεις.

ΕΛΛΗΝΙΚΗ ΔΗΜΟΚΡΑΤΙΑ
ΥΠΟΥΡΓΕΙΟ ΠΑΙΔΕΙΑΣ, ΕΡΕΥΝΑΣ ΚΑΙ ΘΡΗΣΚΕΥΜΑΤΩΝ
ΙΝΣΤΙΤΟΥΤΟ ΤΕΧΝΟΛΟΓΙΑΣ ΥΠΟΛΟΓΙΣΤΩΝ ΚΑΙ ΕΚΔΟΣΕΩΝ ΔΙΔΑΚΤΙΚΩΝ ΒΙΒΛΙΩΝ
ΙΤΥΤΑΚ